

**Задания отборочного этапа Московской олимпиады школьников по географии  
2021-2022 учебного года для 5 кл. (1 вариант)**

**Задание № 1**

Перед Вами фрагмент китайской карты мира, изготовленной в 1602 г. (карта Маттео Риччи), на которой цифровыми индексами обозначены обособленные части Мирового океана. Укажите цифровой индекс, под которым зашифрован водный объект с наименьшей средней глубиной. Назовите этот географический объект.

**Внимание!** Если вы неверно указали цифровой индекс, то всё задание не оценивается.

Ответ запишите по образцу: 1\_Средиземное море



**Ответ:** 2\_Азовское море (если правильно указан только цифровой индекс объекта – 1 балл; если объект определен неверно – 0 баллов).

**5 баллов** (за полностью верный ответ).

**Задание № 2**

Назовите **фамилию** известного датчанина, погибшего на острове открытого им архипелага, в честь которого названы пролив, море и островная дуга.

**Ответ:** Беринг (равнозначные варианты ответа – В.И. Беринг, Витус Ионассен Беринг, Иван Иванович Беринг; принимаются только орфографически верные ответы).

**4 балла**

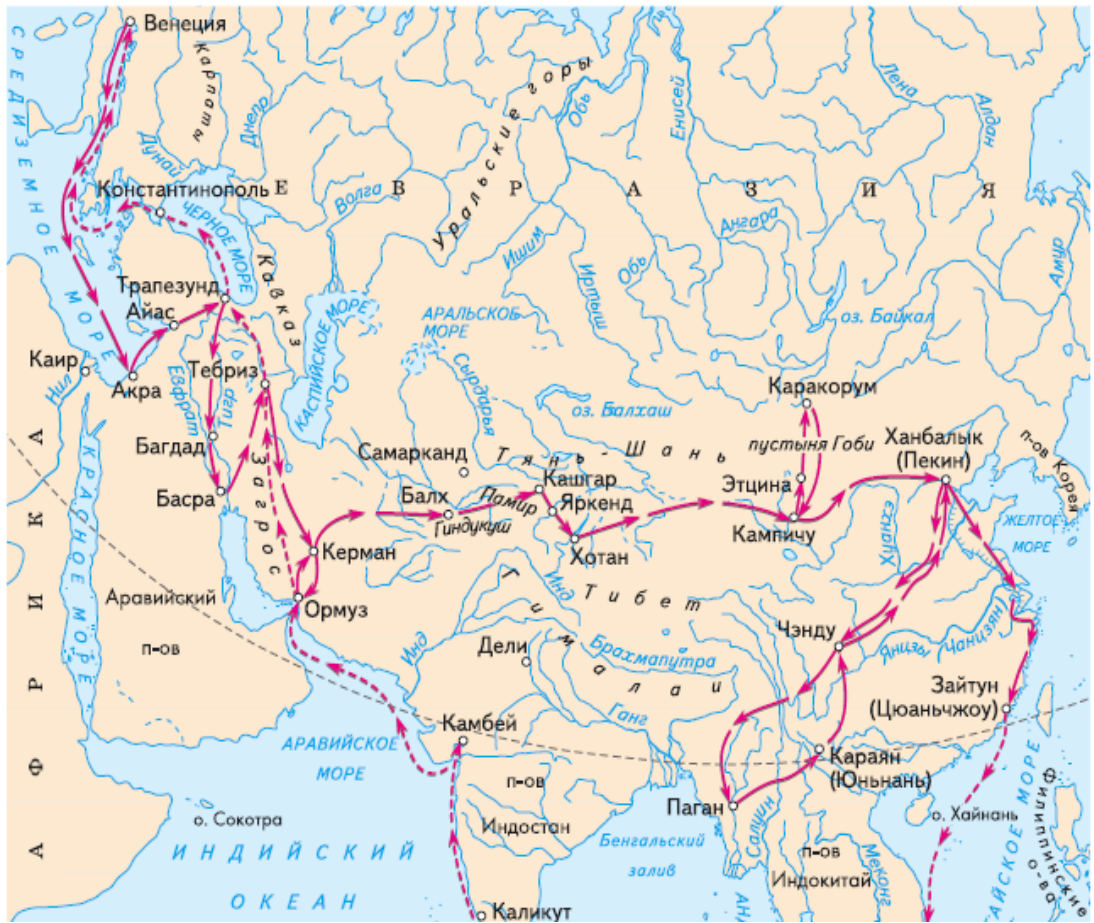
### Задание № 3

Выберите номер картосхемы с маршрутами экспедиций выдающегося отечественного географа и путешественника, проводившего свои исследования в обширном субрегионе, значительная часть которого относится к области внутреннего стока. В честь исследователя названы горные хребты и горные вершины в районе его исследования, а также один из подвидов травоядного млекопитающего.

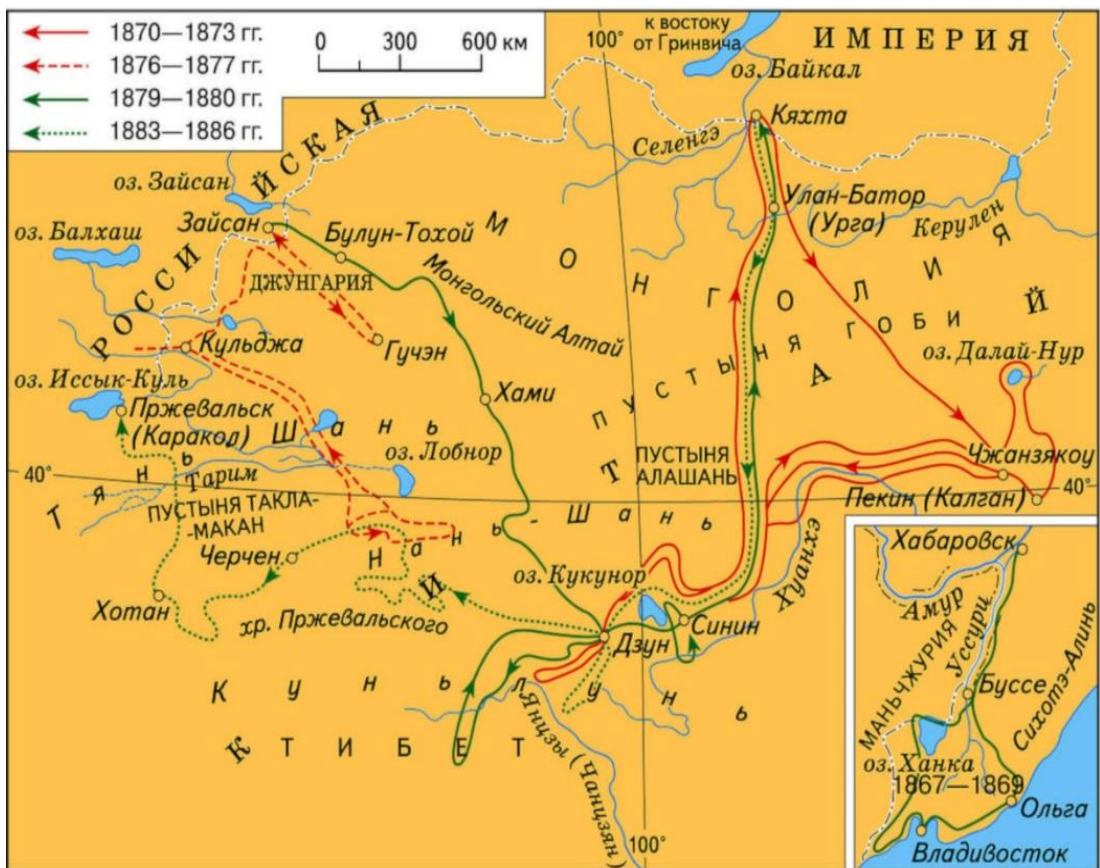
1)



2)



3)



4)



**Ответ: 3**

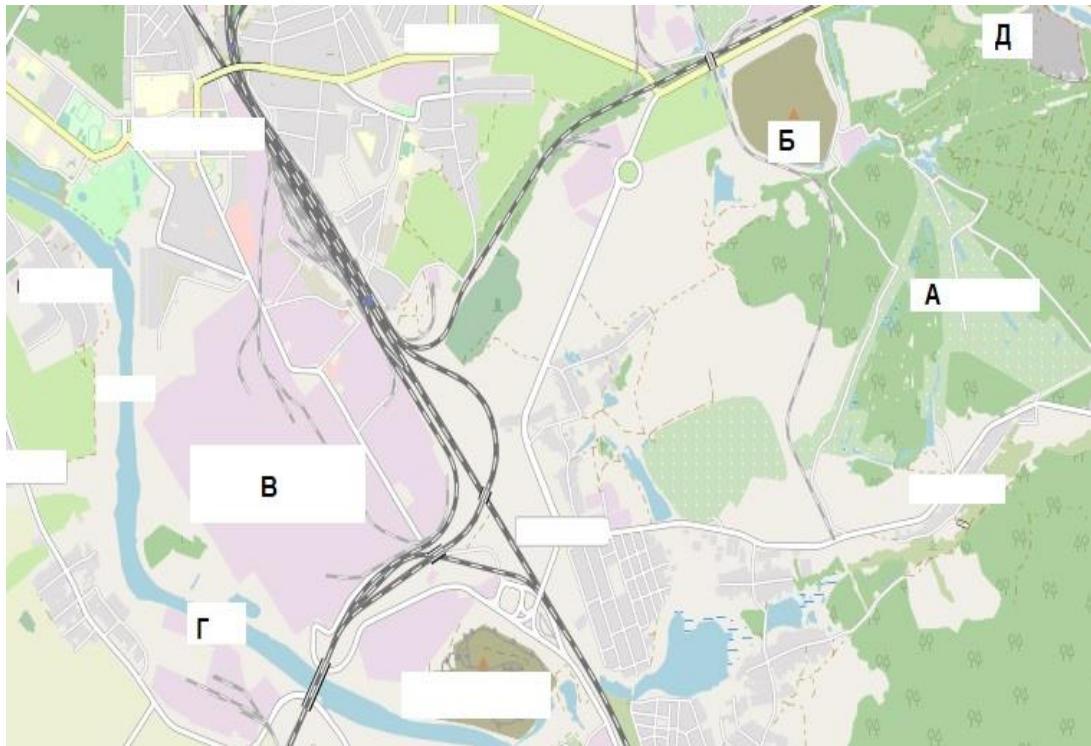
**3 балла**

#### Задание № 4

Рассмотрите картографическое изображение.

Какие объекты (из списка ниже) соответствуют буквенным индексам «Б», «В», «Г», представленным на данном изображении?

Ответ запишите по образцу: Б-2\_В-8\_Г-9.



Перечень возможных объектов:

1. пруды, используемые для рыболовства и рыбоводства
2. болота
3. отвалы пустой породы, оставленные после разработки месторождения
4. территория промышленного предприятия
5. название реки и других водных объектов
6. территории бывших карьеров и промышленных предприятий
7. название населенного пункта
8. осушенные земли
9. территория аэродрома
10. территория садоводческого некоммерческого товарищества
11. производственно-складские помещения
12. лесные массивы
13. поля, луга, пашня, пастбища
14. моховая и лишайниковая растительность
15. солончаки

**Ответ:** Б-3\_В-4\_Г-5 (если верно определено 2 объекта – 1 балл).

**3 балла**

#### Задание № 5

Под юрисдикцию **какой страны**, расположенной на противоположном по отношению к экватору полушарии, попадает территория / акватория со следующими географическими координатами: 27°53' ю. ш. 143°30' з. д.? *Укажите название страны.*

**Ответ:** Франция (Французская республика).

**5 баллов**

**Итого: 20 баллов**

**Задания отборочного этапа Московской олимпиады школьников по географии  
2021-2022 учебного года для 5 кл. (2 вариант)**

**Задание № 1**

Перед Вами фрагмент китайской карты мира, изготовленной в 1602 г. (карта Маттео Риччи), на которой цифровыми индексами обозначены обособленные части Мирового океана. Укажите цифровой индекс, под которым зашифрован водный объект с наибольшей средней глубиной. Назовите этот географический объект.

**Внимание!** Если вы неверно указали цифровой индекс, то всё задание не оценивается.

Ответ запишите по образцу: 1\_Красное море



**Ответ: 5\_Бенгальский залив (если правильно указан только цифровой индекс объекта – 1 балл; если объект определен неверно – 0 баллов).**

**5 баллов** (за полностью верный ответ).

**Задание № 2**

Назовите **имя** мореплавателя скандинавского происхождения, основавшего первую колонию на острове, который в три с половиной раза меньше по площади Австралийского континента. Наступление глобального похолодания привело к упадку и исчезновению основанных колоний.

**Ответ: Эрик (равнозначные варианты ответа – Эйрик, Эйрик Рыжий, Эйрик Торвальдсон, Эйрик Рауда).**

**4 балла**

### Задание № 3

Выберите номер картосхемы с маршрутами экспедиций выдающегося географа и исследователя. За выдающиеся успехи в изучении одного из регионов императорским указом к его фамилии была добавлена приставка с названием этой природной страны. Ученый был одним из организаторов первого в нашей стране статистического учёта населения.

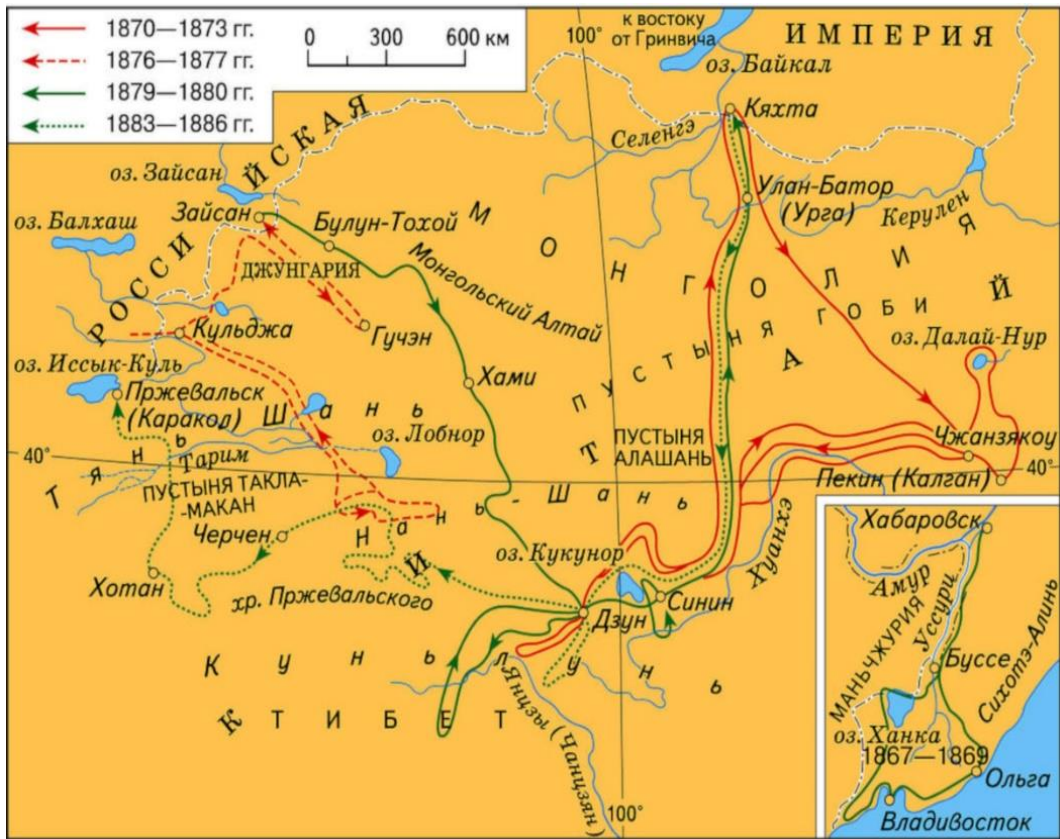
1)



2)



3)





4)



**Ответ: 1**

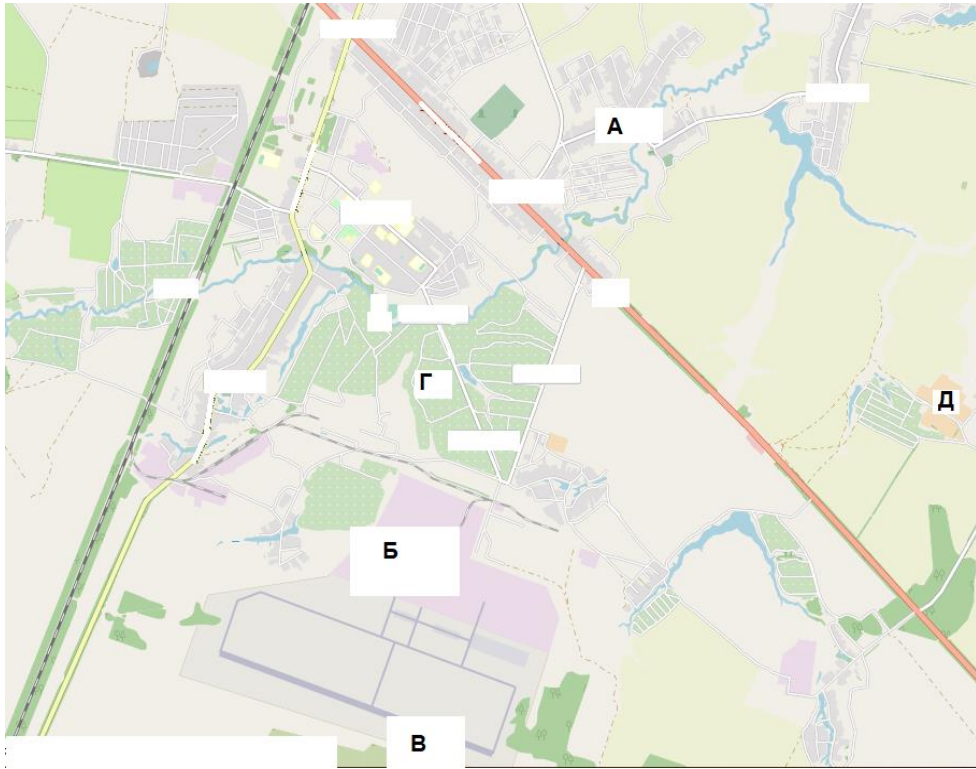
**3 балла**

#### Задание № 4

Рассмотрите картографическое изображение.

Какие объекты (из списка ниже) соответствуют буквенным индексам «А», «Б», «Г», представленным на данном изображении?

Ответ запишите по образцу: А-2\_Б-3\_Г-5.



Перечень возможных объектов:

1. пруды, используемые для рыболовства и рыбоводства
2. болота
3. отвалы пустой породы, оставленные после разработки месторождения
4. территория промышленного предприятия
5. название реки и других водных объектов
6. территории бывших карьеров и промышленных предприятий
7. название населенного пункта
8. осушенные земли
9. территория аэродрома
10. территория садоводческого некоммерческого товарищества
11. производственно-складские помещения
12. лесные массивы
13. поля, луга, пашня, пастбища
14. моховая и лишайниковая растительность
15. солончаки

**Ответ:** А-7\_Б-4\_Г-10 (если верно определено 2 объекта – 1 балл).

**3 балла**

#### Задание № 5

Под юрисдикцию **какой страны**, расположенной на противоположном по отношению к Гринвичскому меридиану полушарии, попадает территория / акватория со следующими географическими координатами: 9°10' ю. ш. 171°50' з. д.? *Укажите название страны.*

**Ответ:** Новая Зеландия (ответ Токелау не принимается, т.к. Токелау является зависимой территорией Новой Зеландией – не обладает суверенитетом).

**5 баллов**

**Итого: 20 баллов**

**Задания отборочного этапа Московской олимпиады школьников по географии  
2021-2022 учебного года для 5 кл. (3 вариант)**

**Задание № 1**

Перед Вами фрагмент китайской карты мира, изготовленной в 1602 г. (карта Маттео Риччи), на которой цифровыми индексами обозначены обособленные части Мирового океана. Укажите цифровой индекс, под которым зашифрован водный объект с наибольшей средней глубиной. Назовите этот географический объект.

**Внимание!** Если вы неверно указали цифровой индекс, то всё задание не оценивается.

Ответ запишите по образцу: 1\_Средиземное море



**Ответ: 5\_Аравийское море (если правильно указан только цифровой индекс объекта – 1 балл; если объект определен неверно – 0 баллов).**

**5 баллов (за полностью верный ответ).**

**Задание № 2**

Назовите **фамилию** известного датчанина, погибшего на острове открытого им архипелага, в честь которого названы пролив, море и островная дуга.

**Ответ: Беринг (равнозначные варианты ответа – В.И. Беринг, Витус Ионассен Беринг, Иван Иванович Беринг).**

**4 балла**

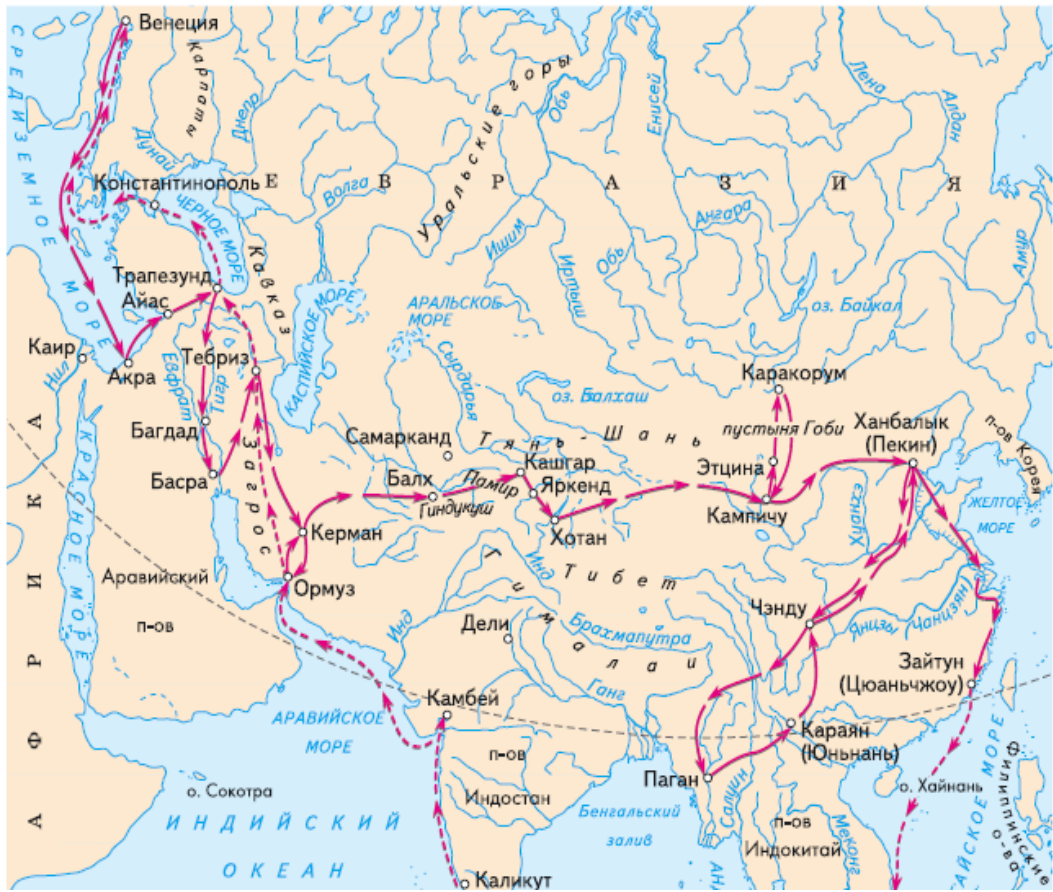
### Задание № 3

Выберите номер картосхемы с маршрутами экспедиций выдающегося отечественного географа и путешественника, проводившего свои исследования в обширном субрегионе, значительная часть которого относится к области внутреннего стока. В честь исследователя названы горные хребты и горные вершины в районе его исследования, а также один из подвидов травоядного млекопитающего.

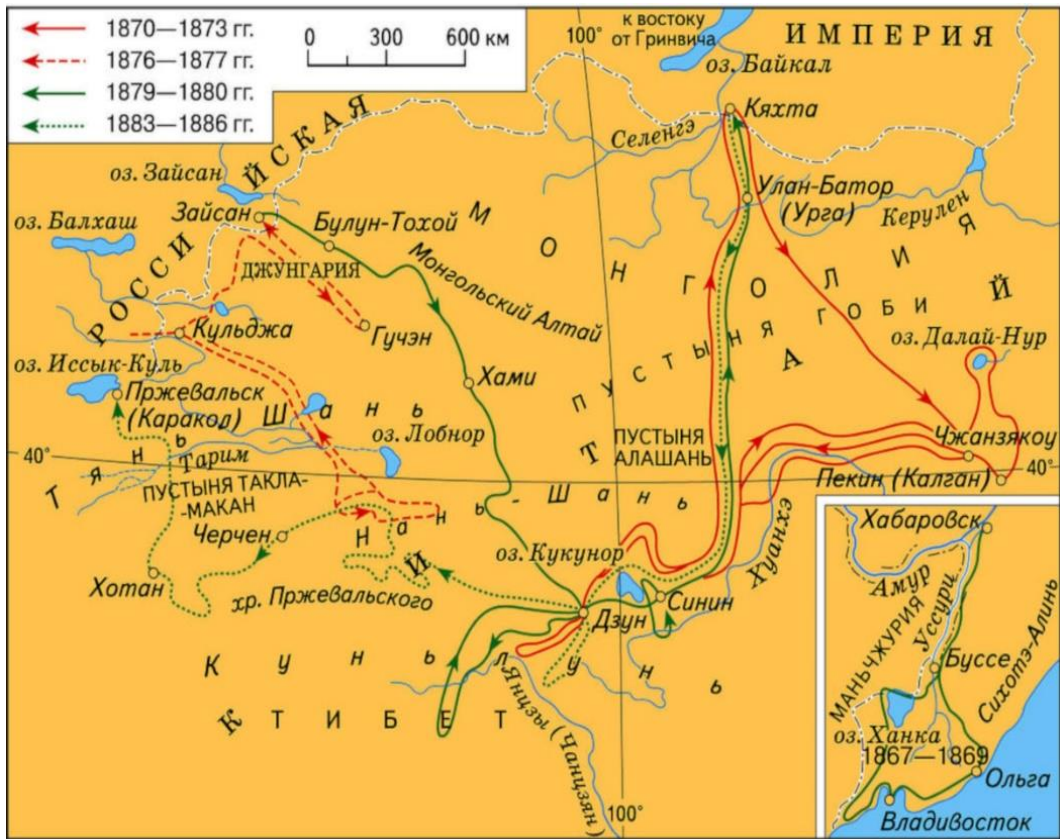
1)



2)



3)



4)



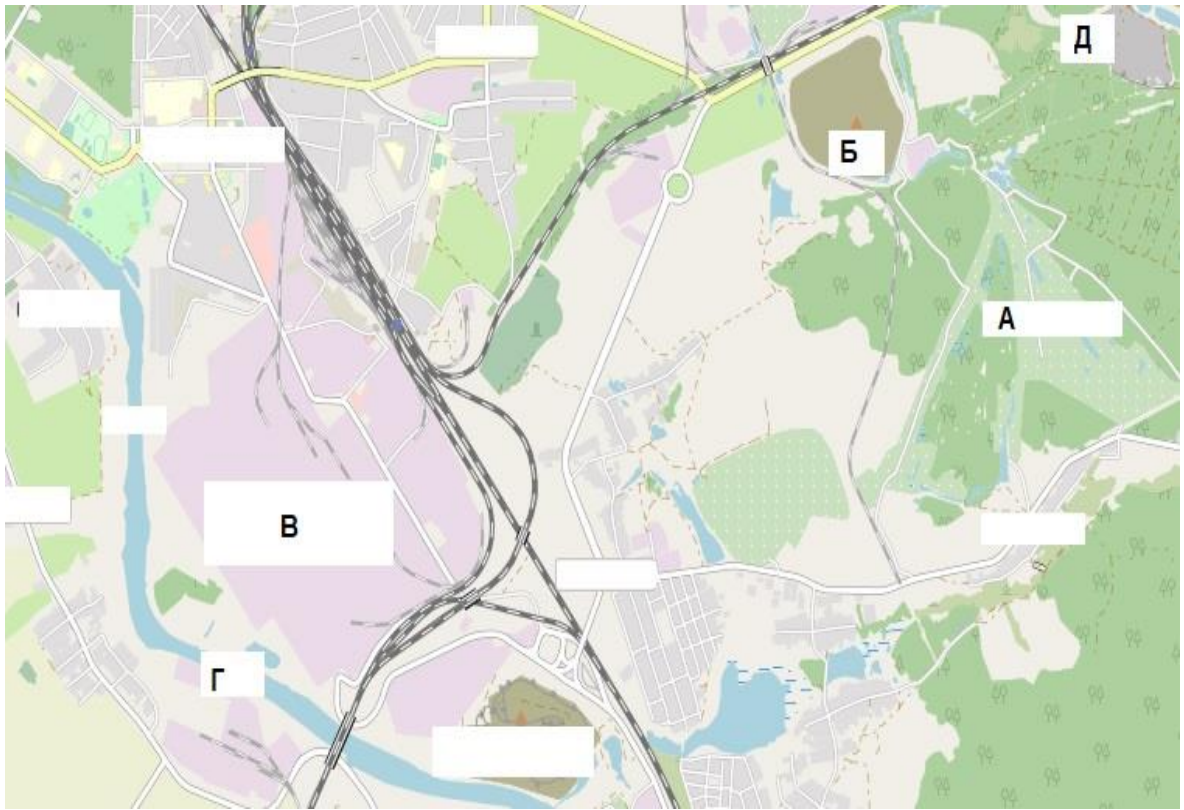
**Ответ: 3**

**3 балла**

#### Задание № 4

Опираясь на представленный ниже перечень объектов, соотнесите их с буквенными индексами «Б», «В», «Г», представленными на данном картографическом изображении (т.е. каким объектам в реальности соответствуют указанные в задании буквенные индексы?).

Ответ запишите по образцу: Б-2\_В-8\_Г-9



Перечень возможных объектов:

1. пруды, используемые для рыболовства и рыбоводства
2. болота
3. отвалы пустой породы, оставленные после разработки месторождения
4. территория промышленного предприятия
5. название реки и других водных объектов
6. территории бывших карьеров и промышленных предприятий
7. название населенного пункта
8. осушенные земли
9. территория аэродрома
10. территория садоводческого некоммерческого товарищества
11. производственно-складские помещения
12. лесные массивы
13. поля, луга, пашня, пастбища
14. моховая и лишайниковая растительность
15. солончаки

**Ответ:** Б-3\_В-4\_Г-5 (если верно определено 2 объекта – 1 балл).

**3 балла**

#### Задание № 5

Под юрисдикцию **какой страны** попадает территория / акватория со следующими географическими координатами: 29°01' ю. ш. 167°56' в.д.? *Укажите название страны.*

**Ответ:** Австралия (Австралийский союз, Содружество Австралии).

**5 баллов**

**Итого: 20 баллов**

**Задания отборочного этапа Московской олимпиады школьников по географии  
2021-2022 учебного года для 5 кл. (4 вариант)**

**Задание № 1**

Перед Вами фрагмент китайской карты мира, изготовленной в 1602 г. (карта Маттео Риччи), на которой цифровыми индексами обозначены обособленные части Мирового океана. Укажите цифровой индекс, под которым зашифрован водный объект с наименьшей средней глубиной. Назовите этот географический объект.

**Внимание!** Если вы неверно указали цифровой индекс, то всё задание не оценивается.

Ответ запишите по образцу: 1\_Красное море



**Ответ: 4\_Персидский залив (если правильно указан только цифровой индекс объекта – 1 балл; если объект определен неверно – 0 баллов).**

**5 баллов (за полностью верный ответ).**

**Задание № 2**

Назовите **имя** мореплавателя скандинавского происхождения, основавшего первую колонию на острове, который в три с половиной раза меньше по площади Австралийского континента. Наступление глобального похолодания привело к упадку и исчезновению основанных колоний.

**Ответ: Эрик (равнозначные варианты ответа Эйрик, Эйрик Рыжий, Эйрик Торвальдсон, Эйрик Рауда).**

**4 балла**



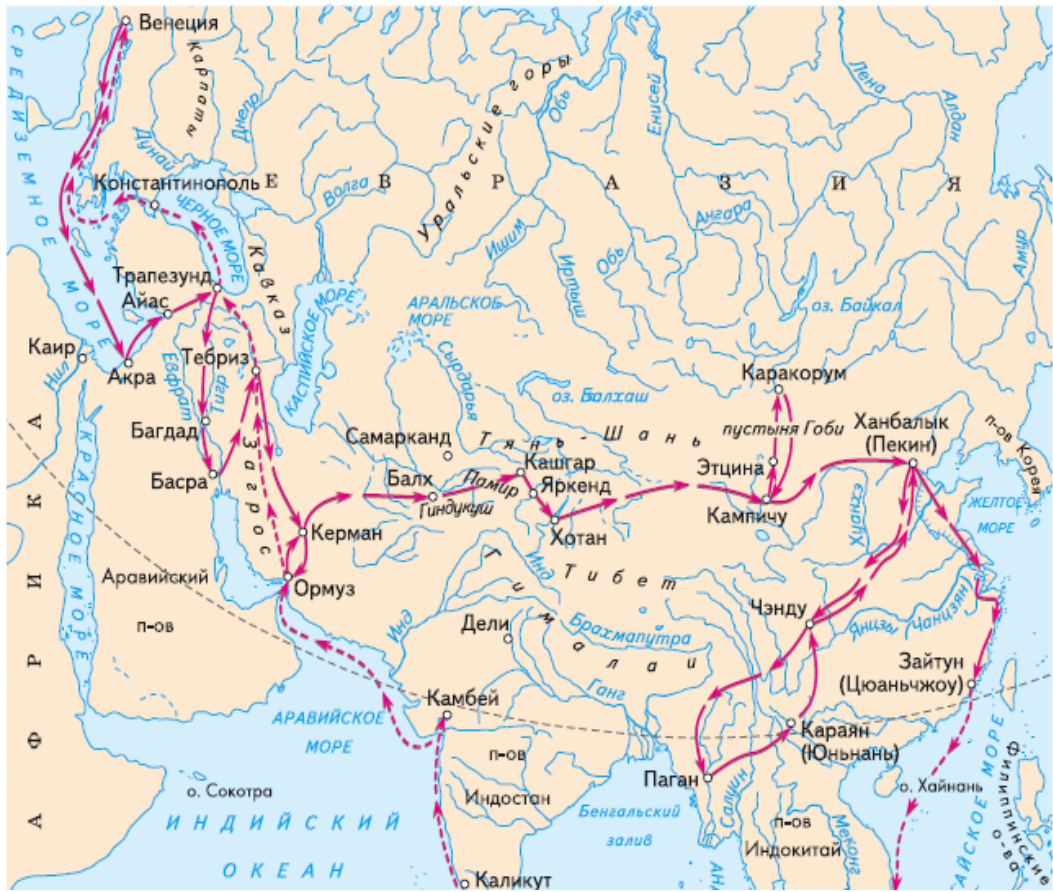
### Задание № 3

Выберите номер картосхемы с маршрутами экспедиций выдающегося географа и исследователя. За выдающиеся успехи в изучении одного из регионов императорским указом к его фамилии была добавлена приставка с названием этой природной страны. Ученый был одним из организаторов первого в нашей стране статистического учёта населения.

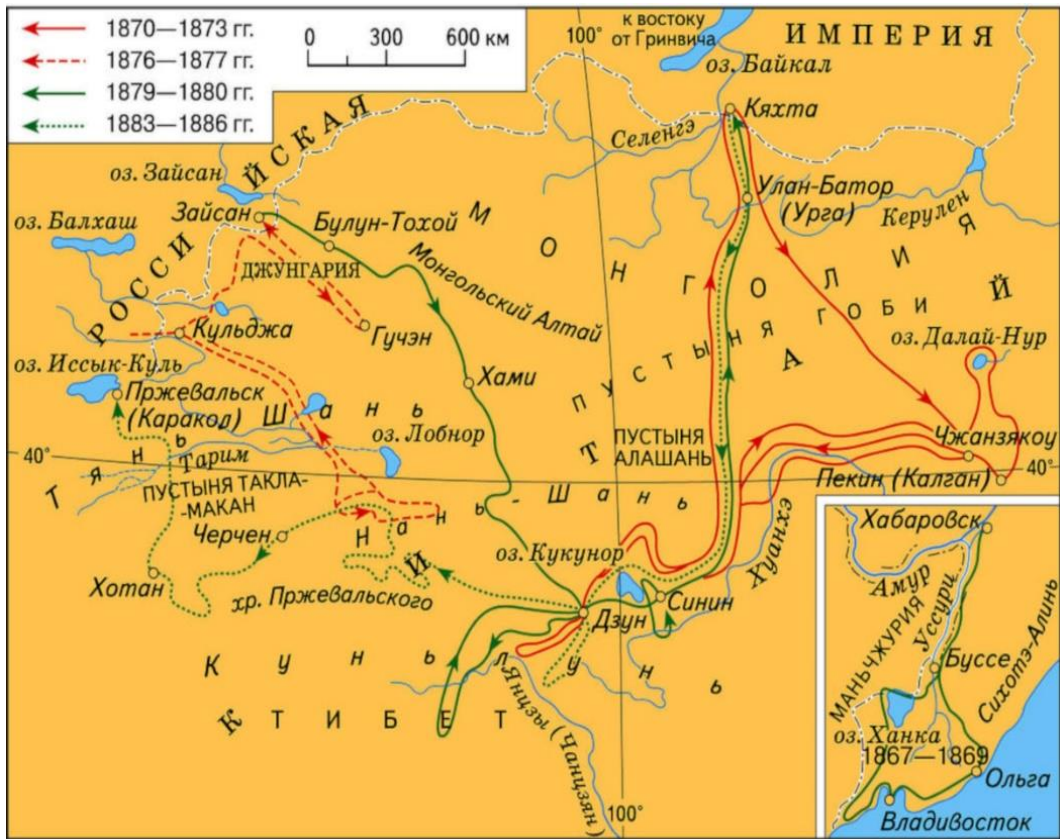
1)



2)



3)



4)



**Ответ: 1**

**3 балла**

#### Задание № 4

Рассмотрите картографическое изображение.

Какие объекты (из списка ниже) соответствуют буквенным индексам «А», «Б», «Г», представленным на данном изображении?

Ответ запишите по образцу: А-2\_Б-3\_Г-5.



Перечень возможных объектов:

1. пруды, используемые для рыболовства и рыбоводства
2. болота
3. отвалы пустой породы, оставленные после разработки месторождения
4. территория промышленного предприятия
5. название реки и других водных объектов
6. территории бывших карьеров и промышленных предприятий
7. название населенного пункта
8. осушенные земли
9. территория аэродрома
10. территория садоводческого некоммерческого товарищества
11. производственно-складские помещения
12. лесные массивы
13. поля, луга, пашня, пастбища
14. моховая и лишайниковая растительность
15. солончаки

**Ответ:** А-7\_Б-4\_Г-10 (если верно определено 2 объекта – 1 балл).

**3 балла**

#### Задание № 5

Под юрисдикцию **какой страны** попадает территория / акватория со следующими географическими координатами: 14°16' ю. ш. 170°42' з. д.? *Укажите название страны.*

**Ответ:** США (Соединённые Штаты Америки; *ответ Американское Самоа не принимается, т.к. Американское Самоа является неинкорпорированной территорией США – не обладает суверенитетом).*

**5 баллов**

**Итого: 20 баллов**